

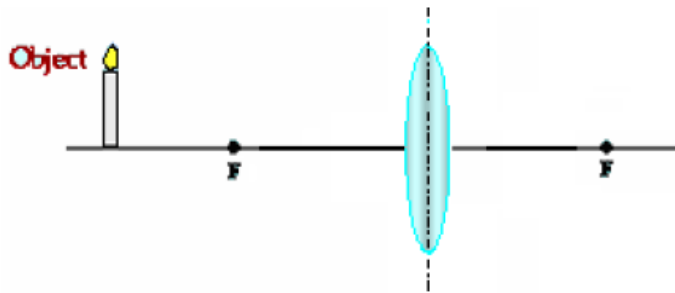
Actividad 13.

Nombre: _____ Fecha: _____

Determinar la posición de la imagen que se formará frente a los distintos lentes. Además debes indicar las características de la imagen, es decir:

- La imagen es: Real o virtual
- De tamaño: menor, mayor o igual al objeto
- Posición: derecha o invertida respecto al objeto

1.



Información objeto 1.

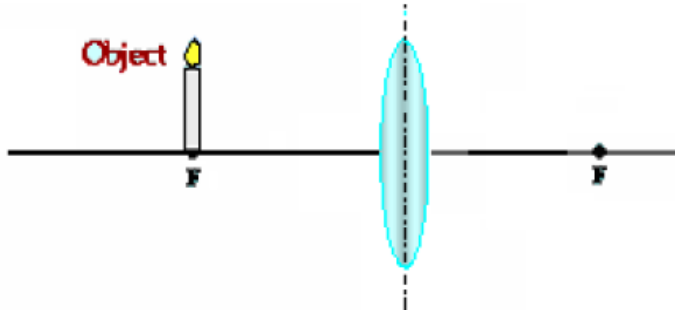
Ubicación del objeto:

La imagen es _____

De tamaño _____

Y posición _____

2.



Información objeto 2.

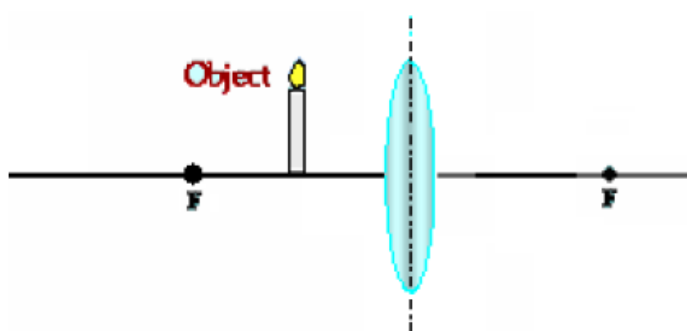
Ubicación del objeto:

La imagen es _____

De tamaño _____

Y posición _____

3.



Información objeto 3.

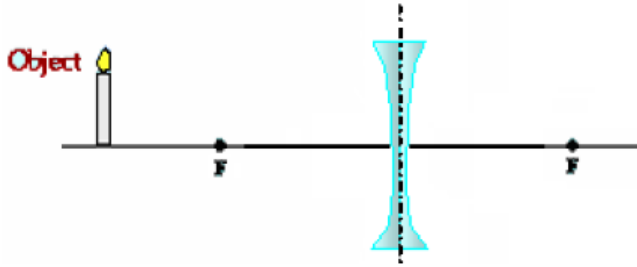
Ubicación del objeto:

La imagen es _____

De tamaño _____

Y posición _____

4.



Información objeto 4.

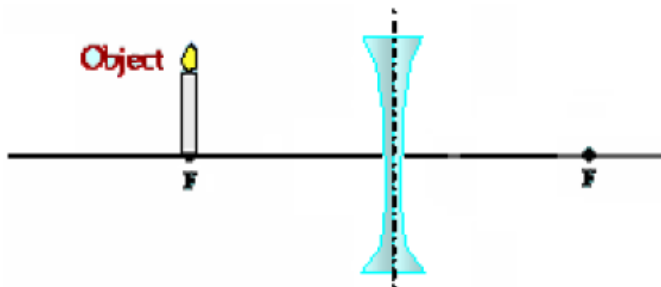
Ubicación del objeto:

La imagen es _____

De tamaño _____

Y posición _____

5.



Información objeto 5.

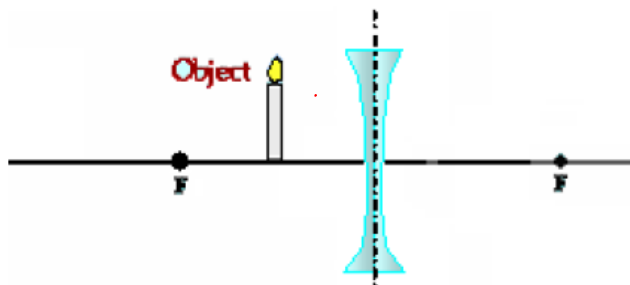
Ubicación del objeto:

La imagen es _____

De tamaño _____

Y posición _____

6.



Información objeto 6.

Ubicación del objeto:

La imagen es _____

De tamaño _____

Y posición _____